

जब तक आपको यह परीक्षण पुस्तिका खोलने को न कहा जाए तब तक न खोलें।

सीरीज़

क्रमांक : 2213385

A

कोड : PRKJTU-02  
2016

विषय : सामान्य अध्ययन - II

समय : 2 घण्टे

पूर्णांक : 200

अपना अनुक्रमांक सामने बॉक्स के  
अन्दर लिखें

अंकों में

शब्दों में

1 0 8 6 8 4

एक लाख आठ हजार 81 सौ चौरासी

प्रश्नों के उत्तर के लिये केवल काले बॉल-प्वाइंट पेन का प्रयोग करें।

अभ्यर्थी उत्तर-पत्रक पर उत्तर देने से पहले सभी अनुदेशों को सावधानीपूर्वक पढ़ लें।

आपको अपने सभी उत्तर केवल उत्तर-पत्रक पर ही देने हैं। परीक्षा के उपरान्त उत्तर-पत्रक निरीक्षक को सौंप दें।

महत्वपूर्ण अनुदेश

1. सभी प्रश्नों के उत्तर दें। सभी प्रश्नों के अंक समान हैं।
2. उत्तर-पत्रक पर अभ्यर्थी अपना अनुक्रमांक, विषय, प्रश्न-पत्र का सही कोड एवं सीरीज़ अंकित करें अन्यथा उत्तर-पत्रक का मूल्यांकन नहीं किया जाएगा और उसकी जिम्मेदारी स्वयं अभ्यर्थी की होगी।
3. इस परीक्षण पुस्तिका में 100 प्रश्न हैं। प्रत्येक प्रश्न के चार (4) वैकल्पिक उत्तर दिए गए हैं। अभ्यर्थी सही उत्तर निर्दिष्ट करते हुए उनमें से केवल एक गोले अथवा बबल को उत्तर-पत्रक पर काले बॉल-प्वाइंट पेन से पूरा गहरा कर दें। एक से अधिक उत्तर देने की दशा में प्रश्न के उत्तर को गलत माना जाएगा एवं उसे जाँचा नहीं जाएगा।
4. अनुक्रमांक के अलावा परीक्षण पुस्तिका के कवर पेज पर कुछ न लिखें। इसके अलावा परीक्षण पुस्तिका के अन्दर और कुछ न लिखें। यदि आप रफ़ कार्य करना चाहते हैं, तो आप निरीक्षक से वर्किंग शीट माँग लें व इस पर वांछित सूचनाएँ भर लें।
5. परीक्षण पुस्तिका खोलने के तुरन्त बाद जाँच करके देख लें कि परीक्षण पुस्तिका के सभी पेज भली-भाँति छपे हुए हैं। यदि परीक्षण पुस्तिका में कोई कमी हो, तो निरीक्षक को दिखाकर उसी सीरीज़ व कोड की दूसरी पुस्तिका प्राप्त कर लें।

जब तक आपको यह परीक्षण पुस्तिका खोलने को न कहा जाए तब तक न खोलें।

Note : English version of the instructions is printed on the back cover of this Booklet.

PRKJTU-02-A



(Directions for Q. No. 1 to 7) : Consider Statements and Conclusions/Inferences and answer according to the codes given below them.

1. **Statements :**

- I. All graduates are chairs.
- II. All chairs are tables.

**Inferences :**

- A. All graduates are tables.
- B. All tables are graduates.

**Codes :**

- (a) Only inference A follows.
- (b) Only inference B follows.
- (c) Both the inferences A and B follow.
- (d) Neither inference A nor B follows.

2. **Statements :**

- I. Every minister is a student.
- II. Every student is inexperienced.

**Inferences :**

- A. Every minister is inexperienced.
- B. Some inexperienced are students.

**Codes :**

- (a) Only inference A follows.
- (b) Only inference B follows.
- (c) Both the inferences A and B follow.
- (d) Neither inference A nor B follows.

3. **Statements :**

- I. Some birds are elephants.
- II. Some elephants are white.

**Inferences :**

- A. Some birds are white.
- B. Some whites are birds.

**Codes :**

- (a) Only inference A follows.
- (b) Only inference B follows.
- (c) Both the inferences A and B follow.
- (d) Neither inference A nor B follows.

4. **Statements :**

- I. No bat is ball.
- II. No ball is wicket.

**Inferences :**

- A. No bat is wicket.
- B. All wickets are bats.

**Codes :**

- (a) Only inference A follows.
- (b) Only inference B follows.
- (c) Both the inferences A and B follow.
- (d) Neither inference A nor B follows.

5. **Statements :**

- I. All fish are tortoise.
- II. No tortoise is a crocodile.

**Inferences :**

- A. No crocodile is a fish.
- B. No fish is a crocodile.

**Codes :**

- (a) Only inference A follows.
- (b) Only inference B follows.
- (c) Both the inferences A and B follow.
- (d) Neither inference A nor B follows.

6. **Statements :**

- A. All players are smokers.
- B. Some smokers are wine-addicts.

**Conclusions :**

- I. All smokers are players.
- II. Some wine-addicts are smokers.

**Codes :**

- (a) Only conclusion I follows.
- (b) Only conclusion II follows.
- (c) Both the conclusions I and II follow.
- (d) Neither conclusion I nor II follows.

7. **Statements :**

- A. Alcoholic drinks are injurious to health.
- B. All old women drink whisky.

**Conclusions :**

- I. All old women have poor health.
- II. All young women are in good health.

**Codes :**

- (a) Only conclusion I follows.
- (b) Only conclusion II follows.
- (c) Neither conclusion I nor II follows.
- (d) Both the conclusions I and II follow.

8. Consider the following statements :

- A. All artists are whimsical.
- B. Some artists are drug addicts.
- C. Frustrated people are prone to become drug addicts.

From the above three statements it may be concluded that

- (a) Artists are frustrated.
- (b) All frustrated people are drug addicts.
- (c) Some drug addicts are whimsical.
- (d) Whimsical people are generally frustrated.

## सामान्य अध्ययन-II

(निर्देश : प्रश्न 1 से 7 के लिए) : कथनों एवं निष्कर्षों/अनुमानों पर विचार कीजिए और उनके नीचे दिए कूटों के अनुसार उत्तर दीजिए।

### 1. कथन

- I. सभी स्नातक कुर्सियाँ हैं।
- II. सभी कुर्सियाँ मेज हैं।

अनुमान :

- A. सभी स्नातक मेज हैं। ✓
- B. सभी मेजें स्नातक हैं।

कूट :

- (a) केवल अनुमान A निकलता है।
- (b) केवल अनुमान B निकलता है।
- (c) दोनों अनुमान A तथा B निकलते हैं।
- (d) न तो अनुमान A और न B निकलता है।

### 2. कथन

- I. प्रत्येक मंत्री विद्यार्थी होता है।
- II. प्रत्येक विद्यार्थी अनुभवहीन होता है।

अनुमान :

- A. प्रत्येक मंत्री अनुभवहीन होता है। ✓
- B. कुछ अनुभवहीन विद्यार्थी होते हैं।

कूट :

- (a) केवल अनुमान A निकलता है।
- (b) केवल अनुमान B निकलता है।
- (c) दोनों अनुमान A तथा B निकलते हैं। ✓
- (d) न तो अनुमान A और न B निकलता है।

### 3. कथन

- I. कुछ पक्षी हाथी होते हैं।
- II. कुछ हाथी सफेद होते हैं।

अनुमान :

- A. कुछ पक्षी सफेद होते हैं।
- B. कुछ सफेद पक्षी होते हैं।

कूट :

- (a) केवल अनुमान A निकलता है।
- (b) केवल अनुमान B निकलता है।
- (c) दोनों अनुमान A तथा B निकलते हैं। ✓
- (d) न तो अनुमान A और न B निकलता है।

### 4. कथन

- I. कोई बल्ला गेंद नहीं है।
- II. कोई गेंद विकेट नहीं है।

अनुमान :

- A. कोई बल्ला विकेट नहीं है।
- B. सभी विकेट बल्ले हैं।

कूट :

- (a) केवल अनुमान A निकलता है।
- (b) केवल अनुमान B निकलता है।
- (c) अनुमान A तथा B दोनों निकलते हैं।
- (d) न तो अनुमान A और न B निकलता है। ✓

### 5. कथन

- I. सभी मछलियाँ कछुए हैं।
- II. कोई कछुआ घड़ियाल नहीं है।

अनुमान :

- A. कोई घड़ियाल मछली नहीं है।
- B. कोई मछली घड़ियाल नहीं है।

कूट :

- (a) केवल अनुमान A निकलता है।
- (b) केवल अनुमान B निकलता है।
- (c) दोनों अनुमान A तथा B निकलते हैं। ✓
- (d) न तो अनुमान A और न B निकलता है। ✓

### 6. कथन

- A. सभी खिलाड़ी धूम्रपान करते हैं।
- B. कुछ धूम्रपान करने वाले शराब के आदी होते हैं।

निष्कर्ष :

- I. सभी धूम्रपान करने वाले खिलाड़ी होते हैं। ✗
- II. कुछ शराब के आदी धूम्रपान करते हैं।

कूट :

- (a) केवल निष्कर्ष I निकलता है।
- (b) केवल निष्कर्ष II निकलता है। ✓
- (c) निष्कर्ष I तथा II दोनों निकलते हैं।
- (d) न तो निष्कर्ष I और न II निकलता है।

### 7. कथन

- A. ऐल्कोहॉल वाले पेय स्वास्थ्य के लिए हानिकारक हैं।
- B. सभी बूढ़ी औरतें हवीस्की पीती हैं।

निष्कर्ष :

- I. सभी बूढ़ी औरतों का स्वास्थ्य खराब रहता है। ✓
- II. सभी युवा औरतों का स्वास्थ्य अच्छा रहता है।

कूट :

- (a) केवल निष्कर्ष I निकलता है। ✓
- (b) केवल निष्कर्ष II निकलता है।
- (c) न तो निष्कर्ष I और न ही निष्कर्ष II निकलता है।
- (d) निष्कर्ष I तथा II दोनों निकलते हैं।

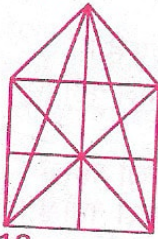
### 8. निम्नलिखित कथनों पर विचार कीजिए :

- A. सभी कलाकार सनकी होते हैं।
- B. कुछ कलाकार औषध व्यसनी होते हैं।
- C. कुण्ठाग्रस्त व्यक्तियों के औषध व्यसनी होने की सम्भावना रहती है।

उपर्युक्त तीन कथनों के आधार पर यह निष्कर्ष निकाला जा सकता है कि

- (a) कलाकार कुण्ठाग्रस्त होते हैं। ✓
- (b) सभी कुण्ठाग्रस्त लोग औषध व्यसनी होते हैं। ✗
- (c) कुछ औषध व्यसनी सनकी होते हैं। ✓
- (d) सनकी लोग प्रायः कुण्ठाग्रस्त होते हैं।

9. The number of straight lines in the figure is :



- (a) 10 (b) 11  
(c) 12 (d) 13

10. The missing number in the following table is :

5	17	9
3	21	7
7	16	8
6	10	?

- (a) 10 (b) 12  
(c) 15 (d) 16

11. A is shorter than D but taller than C. D is shorter than B but taller than A. E is shorter than A but taller than C. The two tallest are :

- (a) E and A (b) E and B  
(c) B and D (d) C and B

12. Which number will come next in the following series ?

3 8 5 7 8 5 12

- (a) 2 (b) 3  
(c) 4 (d) 1

13. If code of DELHI is HIPLM, then QEHVEW is the code of :

- (a) MUMBAI (b) MADRAS  
(c) NAGPUR (d) JAIPUR

14. If 5 boys write 5 pages in 5 minutes, then 3 boys will write 3 pages in

- (a) 1 minute (b) 3 minutes  
(c) 5 minutes (d) 9 minutes

15. 25 English alphabets are listed below :

V C F U M  
P O X S H  
J Z A I E  
B L D K Q  
N W G T Y

If all the letters were to be arranged alphabetically which letter would not change its position ?

- (a) U (b) W  
(c) X (d) Y

16. If  $30 + 40 = 1520$   
 $36 + 28 = 1814$   
 $40 + 20 = 2010$

Then  $50 + 22 = ?$

- (a) 1125 (b) 1126  
(c) 2511 (d) 2250

17. Arrange the following in a meaningful order :

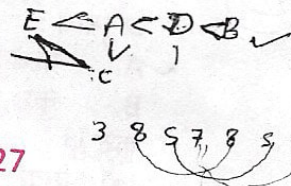
- (i) Plan (ii) Revise  
(iii) Publish (iv) Think  
(v) Write

- (a) (v), (iv), (iii), (ii), (i)  
(b) (i), (ii), (iii), (iv), (v)  
(c) (iv), (i), (v), (ii), (iii)  
(d) (iv), (i), (v), (iii), (ii)

18. The missing number in the following table is :

2	3	5
17	12	8
23	?	28

- (a) 25 (b) 27  
(c) 32 (d) 30



19. A and B play hockey and football, B and C play cricket and football, C and E play cricket and volleyball, D and E play tennis, A and C play volleyball and football, A and D play hockey and football. Who plays hockey, football and tennis ?

- (a) A (b) B  
(c) C (d) D

20. If the average of a number, 50% of the number and 25% of the number is 280, then the number is

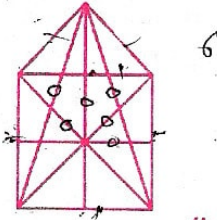
- (a) 280 (b) 480  
(c) 360 (d) None of the above

बच्चे 1 फीस प्रश्न  
जो मारा  
3 बच्चे 3 प्रश्न

21. Krishna walks 1 km East of his house then 1 km North, again 2 km East, 3 km South and 3 km West. To reach his house he must walk

- (a) 1 km North (b) 1 km South  
(c) 2 km South (d) 2 km North

9. आकृति में सरल रेखाओं की संख्या है :



- (a) 10 (b) 11  
(c) 12 (d) 13

10. अधोलिखित सारणी में लुप्त संख्या है :

5	17	9
3	21	7
7	16	8
6	10	?

- (a) 10 (b) 12  
(c) 15 (d) 16

11. A, D से नाटा है परन्तु C से लम्बा है। D, B से नाटा है परन्तु A से लम्बा है। E, A से नाटा है परन्तु C से लम्बा है। दो सबसे लम्बे हैं :

- (a) E और A (b) E और B  
(c) B और D (d) C और B

12. अधोलिखित श्रृंखला में अगली कौन सी संख्या आयेगी ?

3 8 15 24 35 48 63 80 99 128

- (a) 2 (b) 3  
(c) 4 (d) 1

13. यदि DELHI का कूट HIPLM हो, तो QEHVEW कूट है :

- (a) MUMBAI का (b) MADRAS का  
(c) NAGPUR का (d) JAIPUR का

14. यदि 5 बच्चे 5 पृष्ठ 5 मिनट में लिख सकते हैं, तो 3 बच्चे 3 पृष्ठ लिखेंगे :

- (a) 1 मिनट में (b) 3 मिनट में  
(c) 5 मिनट में (d) 9 मिनट में

15. 25 अंग्रेजी के वर्ण नीचे लिखे गए हैं :

V C F U M  
P O X S H  
J Z A I E  
B L D K Q  
N W G T Y

यदि इन सभी को वर्ण के क्रम के अनुसार व्यवस्थित किया जाय, तो किस अक्षर का स्थान नहीं बदलेगा ?

- (a) U का (b) W का  
(c) X का (d) Y का

16. यदि  $30 + 40 = 1520$

$$36 + 28 = 1814$$

$$40 + 20 = 2010,$$

तो  $50 + 22 = ?$

- (a) 1125 (b) 1126  
(c) 2511 (d) 2250

17. अधोलिखित को सार्थक रूप में व्यवस्थित कीजिए :

- (i) योजना बनाना (ii) दुहराना  
(iii) प्रकाशित करना (iv) सोचना  
(v) लिखना

(a) (v), (iv), (iii), (ii), (i)

(b) (i), (ii), (iii), (iv), (v)

(c) (iv), (ii), (v), (ii), (iii)

(d) (iv), (ii), (v), (iii), (ii)

18. अधोलिखित सारणी में लुप्त संख्या है :

2...	3	5
17	12	8
23	?	38

- (a) 25 (b) 27  
(c) 32 (d) 30

19. A और B हॉकी और फुटबॉल खेलते हैं, B और C क्रिकेट और फुटबॉल खेलते हैं, C और E क्रिकेट और वालीबॉल खेलते हैं। D और E टेनिस खेलते हैं, A और C वालीबॉल और फुटबॉल खेलते हैं; A और D हॉकी और फुटबॉल खेलते हैं। कौन हॉकी फुटबॉल और टेनिस तीनों खेलता है ?

- (a) A (b) B  
(c) C (d) D

20. यदि एक संख्या, उसका 50% और उसी संख्या के 25% का औसत 280 है, तो संख्या है :

(a) 280

(b) 480

(c) 360

(d) उपर्युक्त में से कोई नहीं

21. कृष्णा अपने घर से 1 कि.मी. पूर्व की ओर चला, पुनः 1 कि.मी. उत्तर तथा पुनः 2 कि.मी. पूर्व, 3 कि.मी. दक्षिण और 3 कि.मी. पश्चिम की ओर गया। उसे अपने घर पहुंचने के लिए किस दिशा में कितना चलना चाहिए ?

- (a) 1 कि.मी. उत्तर (b) 1 कि.मी. दक्षिण  
(c) 2 कि.मी. दक्षिण (d) 2 कि.मी. उत्तर

22. Which is the odd number in the following?  
 (a) 876321 (b) 34916  
 (c) 318960 (d) 387316
23. A train of length 110 metre is moving with speed of 36 kilometre/hour. The time taken by the train to cross a bridge of length 132 metres is:  
 (a) 13.2 seconds (b) 24.2 seconds  
 (c) 11.0 seconds (d) 16.4 seconds
24. If  $\frac{A}{3} = \frac{B}{4} = \frac{C}{7}$ , then the value of  $\frac{A+B+C}{C}$  is  
 (a) 1  
 (b) 2  
 (c) 3  
 (d) None of the above
25. The monthly income of A and B are in the ratio of 4 : 5, and their monthly expenditures are in the ratio of 7 : 9. If each saves ₹ 50 per month, the monthly income of A is  
 (a) ₹ 400 (b) ₹ 500  
 (c) ₹ 512 (d) ₹ 530
26. Two numbers are in the ratio of 5 : 6. If 8 is subtracted from them, they become in the ratio of 4 : 5. The numbers are:  
 (a) (40, 48) (b) (15, 16)  
 (c) (25, 30) (d) (15, 18)
27. If the value of  $2x - \frac{1}{2x} = 6$ , then the value of  $4x^2 + \frac{1}{4x^2}$  is  
 (a) 38 (b) 39  
 (c) 40 (d) 42
28. The factorization of the expression  $(x+y)^3 + (x-y)^3$  is:  
 (a)  $3x(x^2 - 3y^2)$  (b)  $3x(x^2 + 3y^2)$   
 (c)  $2x(x^2 - 3y^2)$  (d)  $2x(x^2 + 3y^2)$
29. The ascending order of the following fractions  $\frac{3}{8}, \frac{3}{5}, \frac{2}{3}, \frac{1}{2}$  is  
 (a)  $\frac{3}{8}, \frac{1}{2}, \frac{3}{5}, \frac{2}{3}$  (b)  $\frac{3}{8}, \frac{1}{2}, \frac{2}{3}, \frac{3}{5}$   
 (c)  $\frac{1}{2}, \frac{3}{8}, \frac{3}{5}, \frac{2}{3}$  (d)  $\frac{1}{2}, \frac{2}{3}, \frac{3}{8}, \frac{3}{5}$
30. If x and y are positive integers which satisfy the equation  $x^2 - y^2 = 11$ , then the value of  $x^2 + y^2$  is  
 (a) 11 (b) 31  
 (c) 61 (d) 91
31. If each edge of a cube is increased by 50%, the percentage increase in the surface area is:  
 (a) 50% (b) 75%  
 (c) 100% (d) 125%
32. Three circles with centres A, B, C respectively, touch each other externally. If AB = 5 cm, BC = 7 cm and CA = 6 cm, then the radius of the circle with centre A is:  
 (a) 1.5 cm (b) 2 cm  
 (c) 3 cm (d) 4 cm
33. In a triangle ABC, AB = 9 cm, BC = 40 cm and AC = 41 cm, then the triangle is  
 (a) Right angled (b) Obtuse angled  
 (c) Acute angled (d) Equal angled
34. The median of the following observations is:  
 37, 31, 42, 43, 46, 25, 29, 43, 32  
 (a) 37 (b) 38  
 (c) 39 (d) 41
35. Problems connected with decision-making are:  
 (a) fear  
 (b) fear from hopes  
 (c) fear and false hopes  
 (d) None of the above
36. You are a member of the Board of Directors of a big business house. You do not agree with the decision of the board on a particular issue. You will  
 (a) put your viewpoint before the board for their consideration.  
 (b) accept the decision.  
 (c) not accept the decision and ask for the detailed explanation.  
 (d) express your objection strongly.
37. If  $x + 3y = 9$ , then the value of  $(x-5)^3 + (3y-4)^3$  is:  
 (a) 120 (b) 100  
 (c) 81 (d) 0

22. अधोलिखित में कौन विषम संख्या है?  
 (a) 876321 (b) 34916  
 (c) 318960 (d) 387316
23. 36 किलोमीटर/घंटा की चाल से 110 मीटर लम्बी रेलगाड़ी चल रही है। उसे 132 मीटर लम्बे पुल को पार करने में लगने वाला समय है  
 (a) 13.2 सेकण्ड (b) 24.2 सेकण्ड  
 (c) 11.0 सेकण्ड (d) 16.4 सेकण्ड
24. यदि  $\frac{A}{3} = \frac{B}{4} = \frac{C}{7}$ , तो  $\frac{A+B+C}{C}$  का मान होगा  
 (a) 1  
 (b) 2  
 (c) 3  
 (d) उपर्युक्त में से कोई नहीं

25. A तथा B की मासिक आय 4 : 5 के अनुपात में हैं तथा उनके मासिक व्यय 7 : 9 के अनुपात में हैं। यदि दोनों ही ₹ 50 प्रति सप्ताह बचाव करते हैं, तो A की मासिक आय होगी  
 (a) ₹ 400 (b) ₹ 500  
 (c) ₹ 512 (d) ₹ 530

26. दो संख्याएँ 5 : 6 के अनुपात में हैं। यदि दोनों में से 8 घटा दिया जाये, तो वे 4 : 5 के अनुपात में हो जाती हैं, तो संख्याएँ होंगी :  
 (a) (40, 48) (b) (15, 16)  
 (c) (25, 30) (d) (15, 18)

27. यदि  $2x - \frac{1}{2x} = 6$ , तो  $4x^2 + \frac{1}{4x^2}$  का मान है :  
 (a) 38 (b) 39  
 (c) 40 (d) 42

28. व्यंजक  $(x + y)^3 + (x - y)^3$  का गुणनखण्ड है :  
 (a)  $3x(x^2 - 3y^2)$  (b)  $3x(x^2 + 3y^2)$   
 (c)  $2x(x^2 - 3y^2)$  (d)  $2x(x^2 + 3y^2)$

29. अधोलिखित भिन्नो  $\frac{3}{8}, \frac{3}{5}, \frac{2}{3}, \frac{1}{2}$  का आरोही क्रम होगा :

- (a)  $\frac{3}{8}, \frac{1}{2}, \frac{3}{5}, \frac{2}{3}$  (b)  $\frac{3}{8}, \frac{1}{2}, \frac{2}{3}, \frac{3}{5}$   
 (c)  $\frac{1}{2}, \frac{3}{8}, \frac{3}{5}, \frac{2}{3}$  (d)  $\frac{1}{2}, \frac{2}{3}, \frac{3}{8}, \frac{3}{5}$

30. यदि x तथा y धनात्मक पूर्णांक हैं, जो समीकरण  $x^2 - y^2 = 11$  को संतुष्ट करते हैं, तो  $x^2 + y^2$  का मान होगा :  
 (a) 11 (b) 31  
 (c) 61 (d) 91

31. एक घन के प्रत्येक कोर को 50% बढ़ा दिया जाता है, तो इसके पृष्ठीय क्षेत्रफल में प्रतिशत वृद्धि है :  
 (a) 50% (b) 75%  
 (c) 100% (d) 125%

32. तीन वृत्त जिनके केन्द्र क्रमशः A, B, C परस्पर एक दूसरे को बाह्यतः स्पर्श करते हैं। यदि  $AB = 5$  सेमी,  $BC = 7$  सेमी और  $CA = 6$  सेमी हैं, तो A केन्द्र वाले वृत्त की त्रिज्या है :  
 (a) 1.5 से.मी. (b) 2 से.मी.  
 (c) 3 से.मी. (d) 4 से.मी.

33. किसी त्रिभुज ABC में  $AB = 9$  से.मी.,  $BC = 40$  से.मी. तथा  $AC = 41$  से.मी. हैं, तो त्रिभुज होगा :  
 (a) समकोण वाला (b) अधिक कोण वाला  
 (c) न्यून कोण वाला (d) बराबर कोण वाला

34. निम्न प्रेक्षकों 31, 32, 33, 39, 42, 43, 43, 46, 37, 31, 42, 43, 46, 25, 39, 43, 32 की माध्यिका होगी :  
 (a) 37 (b) 38  
 (c) 39 (d) 41

35. निर्णयन से संबंधित समस्याएँ हैं :  
 (a) भय  
 (b) उम्मीदों से भय  
 (c) भय एवं झूठी आशा  
 (d) उपर्युक्त में से कोई नहीं

36. आप एक बड़े व्यवसाय वर्ग के निदेशक मण्डल के सदस्य हैं। किसी विशेष मुद्दे पर आप मण्डल के निर्णय से सहमत नहीं हैं। आप  
 (a) मण्डल के समक्ष अपना दृष्टिकोण उनके विचार हेतु रखेंगे।  
 (b) निर्णय को स्वीकार कर लेंगे।  
 (c) निर्णय को अस्वीकार कर विस्तृत स्पष्टीकरण की माँग करेंगे।  
 (d) उच्च स्तर में अपना विरोध प्रगट करेंगे।

37. यदि  $x + 3y = 9$ , तो  $(x - 5)^3 + (3y - 4)^3$  का मान होगा :  
 (a) 120 (b) 100  
 (c) 81 (d) 0

38. Which of the following cognitive processes occurs when an individual freely considers a variety of potential solutions to artistic, literary, scientific or practical problems ?  
 (a) Heuristic thinking  
 (b) Creative thinking  
 (c) Convergent thinking  
 (d) Divergent thinking
39. A problem solving rule or procedure that when followed step by step, assures that a correct solution will be found is known as :  
 (a) Mental set (b) Trial and error  
 (c) Algorithm (d) Insight
40. The inability to realize that a problem can be solved by using a familiar object in an unusual way is likely due to  
 (a) functional fixedness  
 (b) rule bound approach  
 (c) regulatory mechanism  
 (d) limited capacity
41. Four children are sitting in a row. A is occupying the seat next to B but not next to C. If C is not sitting next to D, who is occupying seat adjacent to D ?  
 (a) B  
 (b) A  
 (c) C  
 (d) Impossible to tell
42. Someone suddenly starts howling on you while boarding a bus. You will  
 (a) also howl on him.  
 (b) request the conductor to calm him down.  
 (c) settle the problem after knowing the cause of howling.  
 (d) get angry on him and calm him down.
43. You are going to purchase medicines for your ailing mother. After going some distance you find a boy crushed under a fast driven vehicle whose driver is trying to escape. What shall you do ?  
 (a) You will immediately carry the injured boy to nearby hospital.  
 (b) You will catch hold of the vehicle driver.  
 (c) You will inform the police about the accident.  
 (d) You will inform the parents of the injured boy.
44. Ananya and Krishna can speak and follow English. Bulbul can write and speak Hindi as Archana does. Archana talks with Ananya also in Bengali. Krishna cannot follow Bengali. Bulbul talks with Ananya in Hindi. Who can speak and follow English, Hindi and Bengali ?  
 (a) Archana (b) Bulbul  
 (c) Ananya (d) Krishna
45. If 25<sup>th</sup> May in a certain year is a Sunday, then which day of the week will be 25<sup>th</sup> December in that year ?  
 (a) Saturday (b) Friday  
 (c) Thursday (d) Sunday
46. Your sub-ordinate requires leave but your office work will be affected due to his absence because he is a key person of that work. You would  
 (a) refer his matter to your superior.  
 (b) sanction the leave.  
 (c) ask another person to do his work.  
 (d) meet him, discuss about the reason for leave and try to convince him the urgent need of his presence.
47. Which one of the following statement is/are true about decision-making ?  
 1. It is an act of determining a course of action.  
 2. It means choosing one alternative from among various alternatives.  
 3. It is synonymous with policy making.  
 (a) 1, 2 and 3 (b) 1 and 2  
 (c) 1 and 3 (d) Only 1
48. In a cricket match Gopal was sitting in seat 253. Reena was sitting to the right of Gopal in seat 254. In the seat left to Gopal was Raman. Ishita was sitting in the seat left to Raman. In which seat is Ishita sitting ?  
 (a) 255 (b) 256  
 (c) 251 (d) 252



38. निम्नलिखित में से कौन सी संज्ञानात्मक प्रक्रिया उस समय घटित होती है जब व्यक्ति कलात्मक, साहित्यिक, वैज्ञानिक अथवा व्यावहारिक समस्याओं के विभिन्न सम्भावित समाधानों पर स्वतंत्र रूप से विचार करता है ?

- (a) स्वतः शोध चिन्तन (b) सृजनात्मक चिन्तन  
(c) अभिसारी चिन्तन (d) अपसारी चिन्तन

39. समस्या समाधान का एक ऐसा नियम अथवा प्रक्रिया जिसका यदि क्रमशः अनुसरण किया जाये तो यह सुनिश्चित कर देता है कि सही समाधान मिल जायेगा, कहलाता है :

- (a) मानसिक वृत्ति (b) प्रयास एवं त्रुटि  
(c) कलन-विधि (d) अन्तर्दृष्टि

40. यह अनुभव करने की अयोग्यता कि समस्या का समाधान किसी परिचित वस्तु का असाधारण तरीके से उपयोग द्वारा हो सकता है,

- (a) प्रकार्यात्मक स्थिरता के कारण  
(b) नियमबद्ध उपागम के कारण  
(c) नियामक रचनात्मकता के कारण  
(d) सीमित क्षमता के कारण

41. चार बच्चे एक पंक्ति में बैठे हैं। A, B के बगल वाली सीट पर बैठा है लेकिन C के बगल में नहीं। यदि C, D के बगल में नहीं बैठा है, तो D के अगल-बगल की सीट पर कौन बैठा है ?

- (a) B (b) A  
(c) C (d) बताना असम्भव

42. बस पर चढ़ते समय कोई व्यक्ति अचानक आप पर चिल्लाने लगता है। आप

- (a) भी उस पर वैसे ही चिल्लाएंगे।  
(b) कण्डक्टर से उसे शान्त करने के लिए कहेंगे।  
(c) चिल्लाने का कारण जानकर मामले को शान्त करेंगे।  
(d) उस पर क्रोध करेंगे और उसे शान्त करेंगे।

43. आप अपनी बीमार माताजी के लिए दवा लेने जा रहे हैं। कुछ दूर जाने के बाद किसी तेज जाते वाहन से कुचल गए बच्चे को आप देखते हैं जिसका चालक भागने की कोशिश कर रहा है। आप क्या करेंगे ? आप

- (a) तत्काल घायल बच्चे को पास के अस्पताल में ले जायेंगे।  
(b) वाहन चालक को पकड़ने की कोशिश करेंगे।  
(c) पुलिस को घटना के बारे में सूचित करेंगे।  
(d) घायल बालक के माता-पिता को सूचित करेंगे।

44. अनन्या और कृष्णा अंग्रेजी बोल और समझ सकते हैं। बुलबुल अर्चना की तरह ही हिन्दी बोल और लिख सकती है। अर्चना अनन्या से बंगला में भी बात करती है। कृष्णा बंगला नहीं समझ सकती। बुलबुल अनन्या से हिन्दी में बात करती है। कौन अंग्रेजी, हिन्दी और बंगला बोल और समझ सकता है ?

- (a) अर्चना (b) बुलबुल  
(c) अनन्या (d) कृष्णा

45. यदि किसी वर्ष में 25 मई को रविवार है, तो उस वर्ष में 25 दिसम्बर को कौन सा दिन होगा ?

- (a) शनिवार (b) शुक्रवार  
(c) बृहस्पतिवार (d) रविवार

46. आपका अधीनस्थ छुट्टी चाहता है पर उसकी अनुपस्थिति में आपके कार्यालय का काम प्रभावित होगा क्योंकि वह उस काम के लिए मुख्य व्यक्ति है। आपको चाहिए कि

- (a) उसके मामले को अपने उच्च वरिष्ठ को सन्दर्भित कर दें।  
(b) छुट्टी मंजूर कर दें।  
(c) दूसरे व्यक्ति को उसका काम करने को कहें।  
(d) उससे मिलें, छुट्टी के कारण के बारे में चर्चा करें और उसकी उपस्थिति की आवश्यकता के लिए उसे मनाने का प्रयास करें।

47. निर्णयन के बारे में निम्नलिखित कथनों में से कौन सा/से सही है/हैं ?

- यह कार्यवाही को निर्धारित करने का काम है।
  - इसका अर्थ है विभिन्न विकल्पों में से एक विकल्प को चुनना।
  - यह नीति-निर्माण का पर्यायवाची है।
- (a) 1, 2 तथा 3 (b) 1 तथा 2  
(c) 1 तथा 3 (d) केवल 1

48. किसी क्रिकेट मैच में गोपाल सीट 253 पर बैठता है। रीना गोपाल की दायीं ओर सीट 254 पर बैठी है। गोपाल के बायें रमन बैठा है। इषिता रमन के बायें बैठी है। इषिता किस सीट पर बैठी है ?

- (a) 255 (b) 256  
(c) 251 (d) 252

**Instructions for Question Nos. 49-53 :**

Read the following passage carefully and answer the questions. Choose the correct answer from the alternatives based only on the passage given.

Read not to contradict and confute, nor to believe and take for granted, nor to find talk and discourse, but to weigh and consider. Some books are to be tasted, others to be swallowed, and some few to be chewed and digested that is, some books are to be read only in parts, others to be read, but not curiously; and some few to be read wholly and with diligence and attention. Some books may also be read by deputy, and extracts made of them by others; but that would be only in the less important arguments and the meaner sort of books; else distilled books are like common distilled waters, flashy things. Reading maketh a full man, conference a reading man, and writing an exact man. And therefore if a man writes little, he had need have a good memory; if he confers little, he had need have a present wit; and if he reads little, he had need have much cunning to seem to know that he doth not.

Histories make men wise, poets witty, the mathematics subtle, natural philosophy deep, moral, grave, logic and rhetoric able to contend.

**49.** How must we approach the 'meaner' sort of books ?

- (a) They are to be read by deputy and extracts made of them by others.
- (b) They are to be read but not to contradict and confute.
- (c) They are to be read but only in parts.
- (d) They are to be read but not curiously.

**50.** What should be the real object of reading ?

- (a) Not to contradict and confute
- (b) To weigh and consider
- (c) To distil the contents
- (d) To understand the author's point of view

**51.** If a man reads very little, what must he pretend ?

- (a) He must pretend to have a good memory.
- (b) He must pretend to have a lot of intelligence.
- (c) He must pretend to know a lot.
- (d) He must pretend to be witty.

**52.** What is meant by conference ?

- (a) A meeting where conversation is important.
- (b) A gathering of people.
- (c) A get together.
- (d) A group of people assembled to hear a speaker.

**53.** What does some books are to be tasted mean ?

- (a) To be read with diligence and attention.
- (b) To be read but not curiously.
- (c) To be read just for fun.
- (d) To be read only in parts.

54. Which of the following is correctly punctuated?

rama received a fountain pen hari a watch

- (a) Rama received a fountain pen, Hari a watch.  
 (b) Rama received a fountain pen; Hari a watch.  
(c) Rama received a fountain pen; Hari, a watch  
(d) Rama received a fountain pen, Hari, a watch

55. Change the sentence into passive voice:

All his friends laughed at him.

- (a) He laughed at all his friends.  
(b) He laughs at all his friends.  
(c) He is laughed at by all his friends.  
 (d) He was laughed at by all his friends.

56. Fill in the blank in the given sentence by choosing the correct option :

Please do not forget to submit your application \_\_\_\_\_ time.

- (a) by (b) of  
 (c) in (d) with

57. Which one of the following alternatives gives the meaning of the given idiom/phrase?

Snake in the grass

- (a) Cowardly and brutal  
(b) An unreliable person  
 (c) A hidden enemy  
(d) Low and mean

58. Change the given sentence into indirect speech.

Radha said, "I am well."

- (a) Radha said that I am well.  
(b) Radha said that she is well.  
 (c) Radha said that she was well.  
(d) Radha said that she should be well.

59. Identify the part of speech of the underlined word :

It will be five years before we meet again.

- (a) Preposition (b) Adverb  
 (c) Conjunction (d) Adjective

60. Which of the following is wrongly spelt?

- (a) Decieve (b) Believe  
 (c) Relieve (d) Belief

61. "Absence of knowledge" stands for

- (a) Nescience (b) Insipient  
(c) Presence (d) Omniscience

62. Choose the word opposite in meaning for CHEAP.

- (a) Mean  (b) Expensive  
 (c) Expansive (d) Ordinary

63. Transform the following sentence :

You are as big a fool as a donkey.

- (a) A donkey is not as foolish as you.  
(b) A donkey is not as big a fool as you.  
 (c) A donkey is not more foolish as you.  
 (d) A donkey is not a bigger fool than you.

निर्देश : प्रश्न संख्या 64 से 68 के लिए :

निम्नलिखित गद्यांश को ध्यान से पढ़िए तथा प्रश्न संख्या 64 से 68 के उत्तर इस गद्यांश के आधार पर ही दीजिए।

प्रत्येक राष्ट्रभिमानी के हृदय में अपने देश, अपने देश की संस्कृति तथा भाषा के प्रति प्रेम और अभिमान सहज ही होता है। वह अपने राष्ट्र, अपनी जन्मभूमि और राष्ट्रभाषा के लिए प्राणों का उत्सर्ग करने को सदैव तत्पर रहता है। जिस देश के निवासियों के हृदय में यह उत्सर्ग भावना नहीं होती वह राष्ट्र, पराधीन होकर अपनी सुख-शान्ति और समृद्धि सदा के लिए खो बैठता है। देशभक्ति और सार्वजनिक हित के बिना राष्ट्रीय महत्ता वा अस्तित्व ही नहीं रह सकता। यह भावना उसे इस बात का प्रयत्न करने को प्रेरित करती है कि वह अन्याय से दुर्बलों की रक्षा कर अनौचित्य का निवारण करे, धर्म पर स्थिर रहे और न्याय के लिए लड़े। समाज को हानि पहुँचाकर अनुचित लाभ उठाना एकदम अस्वीकार कर दे, अपने समाज के प्रति कर्तव्य से मुख मोड़कर उसे धोखा न दे।

64. प्रत्येक राष्ट्रभिमानी के हृदय में अभिमान होता है :

- (a) देश की समृद्धि के लिए।
- (b) देश की सुख-शान्ति के लिए।
- (c) देश की भाषा के लिए।
- (d) देश की महत्ता के लिए।

65. देशभक्ति प्रेरित करती है :

- (a) अनौचित्य का निवारण करने के लिए।
- (b) अन्याय हेतु लड़ने के लिए।
- (c) अनुचित लाभ हेतु लड़ने के लिए। x
- (d) पराधीनता के लिए युद्ध करने हेतु।

66. गद्यांश में किस शब्द का प्रयोग नहीं है ?

- (a) उत्सर्ग
- (b) अधर्म
- (c) भक्ति
- (d) हानि

67. पराधीन राष्ट्र खो बैठता है :

- (a) अपनी समृद्धि
- (b) अपनी भाषा
- (c) अपनी उत्सर्ग भावना
- (d) अपनी न्याय-चेतना

68. गद्यांश का सही शीर्षक है :

- (a) राष्ट्रीय महत्त्व
- (b) राष्ट्रभिमान
- (c) राष्ट्र के प्रति कर्तव्य
- (d) राष्ट्र की सुख-शान्ति

69. 'एषणा' का अर्थ है :

- (a) घृणा
- (b) अनिच्छा
- (c) अभिलाषा
- (d) उपर्युक्त में से कोई नहीं

70. अधोलिखित में से कौन सा युग्म विशेषण नहीं है ?

- (a) छोटा-बड़ा
- (b) हरा-पीला
- (c) दो-तीन
- (d) राम-लक्ष्मण

71. अधोलिखित में कौन सा शब्द तत्सम नहीं है ?

- (a) तस्कर
- (b) ध्यान
- (c) बोध
- (d) हाथ

72. दैवज्ञ का अर्थ है :

- (a) देवता  (b) ज्योतिषी   
(c) किन्नर  (d) गंधर्व

73. 'चिरन्तन' का सही विलोम शब्द है :

- (a) नश्वर  (b) अचिन्तन   
(c) अचर  (d) अचेतन

74. 'अनिवार्य' का विपरीतार्थक शब्द है :

- (a) निवारणीय  (b) ऐच्छिक   
(c) अनावश्यक  (d) आवश्यक

75. 'प्रतिकूल' का विलोम शब्द है :

- (a) सफल  (b) प्रतिदर्श   
(c) अनुकूल  (d) अनुसार

76. "अपनी ढपली अपना राग" का अर्थ है

- (a) बन्दर बाँट करना   
(b) संगठन का अभाव   
(c) अपना गीत गाना   
(d) इनमें से कोई नहीं

77. अधोलिखित में से शुद्ध वर्तनी वाला शब्द है :

- (a) रचयिता  (b) अनुग्रहीत   
(c) अहार  (d) सृष्टा

78. निम्नलिखित में से कौन वर्ण अन्तःस्थ नहीं है ?

- (a) य  (b) ह   
(c) र  (d) व

79. सप्तर्षि में समास है :

- (a) कर्मधारय  (b) तत्पुरुष   
(c) द्वंद्व  (d) द्विगु

80. 'उच्छिष्ट' का शुद्ध संधि-विच्छेद है :

- (a) उत + शिष्ट  (b) उत् + शिष्ट   
(c) उत + सिष्ट  (d) उ + च्छिष्ट

81. अधोलिखित किस वाक्य में अकर्मक क्रिया है ?

- (a) मैं पुस्तक पढ़ती हूँ।   
(b) ये चीज़ें तुम्हारा जी लबकती हैं।   
(c) श्याम सोता है।   
(d) वह अपना सिर खुजलाता है।

82. आग का पर्यायवाची शब्द नहीं है :

- (a) अनल  (b) पावक   
(c) व्योम  (d) कृशानु

83. निम्नलिखित वाक्यों में से किसमें प्रेरणार्थक क्रिया का प्रयोग नहीं है ?

- (a) पिता उसे पढ़ाते हैं।   
(b) राम नहीं पढ़ता।   
(c) वे अध्यापक से पढ़वाते हैं।   
(d) अध्यापक परिश्रम कराते हैं।

84. Communication over telephone is an example of  
 (a) linear communication  
 (b) non-linear communication  
 (c) mechanized communication  
 (d) circular communication
85. In oral communication, what matters most is :  
 (a) What you say ?  
 (b) How you say it ?  
 (c) Where you say it ?  
 (d) When you say ?
86. The foremost barrier to oral communication is :  
 (a) Poor listening (b) Humility  
 (c) Interestedness (d) Concentration
87. The effectiveness of oral communication depends on the speaker's ability to use :  
 (a) Simple language  
 (b) Long sentences  
 (c) Foreign words  
 (d) Complex words
88. The best option to establish communication with your partners and sub-ordinates is :  
 (a) formal communication as required  
 (b) a clear and attentive communication  
 (c) informal inter-communication  
 (d) to understand everybody with concern
89. One of your senior officers does not like you. It affects your working. How will you manage this situation ?  
 (a) By complaining to higher officer.  
 (b) By talking to him privately.  
 (c) By neglecting this and doing your work carefully.  
 (d) By resigning from the job.
90. In which of the following kinds of communication leadership roles first emerge ?  
 (a) Intrapersonal Communication  
 (b) Small Group Communication  
 (c) Dyadic Communication  
 (d) Virtual reality Communication
91. The most important interpersonal skill of a person to work with others is his  
 (a) Availability (b) Status  
 (c) Power (d) Ability
92. Usually in your talks with co-workers, you :  
 (a) are grave.  
 (b) are smiling.  
 (c) smile in support of their views.  
 (d) smile on correct time.
93. The mode of communication that involves a single source transmitting information to a large number of receivers simultaneously, is called  
 (a) In-group Communication  
 (b) Mass Communication  
 (c) Intra-personal Communication  
 (d) Interpersonal Communication
94. Classroom Communication is normally considered as  
 (a) Effective (b) Cognitive  
 (c) Affective (d) Selective
95. In Circular Communication, the encoder becomes a decoder when there is :  
 (a) Noise (b) Audience  
 (c) Criticality (d) Barrier
96. Three of the following are alike in a certain way and form a group. Find the odd one out.  
 (a) Bird (b) Insect  
 (c) Airplane (d) Kite
97. How many meaningful words can be formed with the letters EAML ?  
 (a) 1 (b) 3  
 (c) 4 (d) 2
98. Find the odd one out.  
 (a) Grams (b) Litres  
 (c) Tonnes (d) Quintals
99. Find the odd one out.  
 (a) Tomato (b) Onion  
 (c) Ladyfinger (d) Chilly
100. An officer throws his pen on his table during a meeting. This shows his  
 (a) Anger (b) Tiredness  
 (c) Disinterest (d) Confusion

84. टेलिफोन द्वारा सम्प्रेषण उदाहरण है  
 (a) रेखीय सम्प्रेषण का  
 (b) अरेखीय सम्प्रेषण का  
 (c) यान्त्रिक सम्प्रेषण का  
 (d) वर्तुल सम्प्रेषण का
85. मौखिक सम्प्रेषण में सबसे अधिक महत्त्वपूर्ण होता है कि  
 (a) आप क्या कहते हैं ?  
 (b) आप इसे कैसे कहते हैं ?  
 (c) आप इसे कहाँ कहते हैं ?  
 (d) आप इसे कब कहते हैं ?
86. मौखिक सम्प्रेषण में सबसे महत्त्वपूर्ण बाधा है :  
 (a) खराब श्रवण  
 (b) विनम्रता  
 (c) रुचि  
 (d) एकाग्रता
87. मौखिक सम्प्रेषण की प्रभावशीलता वक्ता की योग्यता पर निर्भर करती है  
 (a) सरल भाषा प्रयोग की  
 (b) लम्बे वाक्य प्रयोग की  
 (c) विदेशी शब्द प्रयोग का  
 (d) जटिल शब्द प्रयोग-की
88. अपने सहयोगियों एवं अधीनस्थों के बीच संवाद स्थापित करने का सर्वोत्तम विकल्प है :  
 (a) आवश्यकतानुसार औपचारिक संवाद  
 (b) स्पष्ट तथा ध्यानपूर्वक संवाद  
 (c) अनौपचारिक अन्तः संचार  
 (d) प्रत्येक व्यक्ति को गम्भीरता से समझना
89. आपका एक वरिष्ठ अधिकारी आपको पसन्द नहीं करता। इससे आपका कार्य प्रभावित होता है। आप इस स्थिति को किस प्रकार संभालेंगे ?  
 (a) उससे उच्चतर अधिकारी से शिकायत करके।  
 (b) निजी तौर पर एकान्त में उससे बात करके।  
 (c) उसकी अनदेखी करके अपने कार्य पर ध्यान देकर।  
 (d) नौकरी से त्याग-पत्र देकर।
90. अधोलिखित में से किस प्रकार के सम्प्रेषण में नेतृत्व भूमिकाओं की उत्पत्ति सर्वप्रथम होती है ?  
 (a) अन्तःवैयक्तिक सम्प्रेषण  
 (b) लघु समूह सम्प्रेषण  
 (c) द्विकीय सम्प्रेषण  
 (d) आभासी यथार्थ सम्प्रेषण
91. किसी व्यक्ति में दूसरों के साथ काम करने का सर्वाधिक महत्त्वपूर्ण अन्तर्वैयक्तिक कौशल है :  
 (a) उपलब्धता  
 (b) संस्थिति  
 (c) शक्ति  
 (d) योग्यता
92. अपने सहकर्मियों के साथ वार्तालाप के दौरान साधारणतया आप  
 (a) गम्भीर रहते हैं।  
 (b) मुस्कराते रहते हैं।  
 (c) उनके विचारों के समर्थन में मुस्कराते हैं।  
 (d) सही समय पर मुस्कराते हैं।
93. संचार का वह साधन जो बहुत सारे आदाताओं को एक स्रोत से एक साथ सूचना प्रसारित करता है, कहलाता है :  
 (a) अन्तः समूह सम्प्रेषण  
 (b) जन सम्प्रेषण  
 (c) अन्तः वैयक्तिक सम्प्रेषण  
 (d) अन्तर्वैयक्तिक सम्प्रेषण
94. कक्षा में सम्प्रेषण को सामान्यतया समझा जाता है :  
 (a) प्रभावी  
 (b) संज्ञानात्मक  
 (c) भावनात्मक  
 (d) चयनात्मक
95. एक वर्तुल सम्प्रेषण में संकटक कूटभंजक हो जाता है, जब वहाँ होता है  
 (a) शोर  
 (b) स्रोत समूह  
 (c) आलोचनात्मकता  
 (d) अवरोध
96. अधोलिखित में से तीन किसी तरह समान हैं तथा एक समूह का निर्माण करते हैं। सर्वथा भिन्न को बताइए।  
 (a) पक्षी  
 (b) कीड़ा  
 (c) हवाई-जहाज  
 (d) पतंग
97. EAML अक्षरों से कितने सार्थक शब्द निर्मित हो सकते हैं ?  
 (a) 1  
 (b) 3  
 (c) 4  
 (d) 2
98. सर्वथा भिन्न को बताइए।  
 (a) ग्राम्  
 (b) लीडर  
 (c) टन  
 (d) क्विण्टल
99. सर्वथा भिन्न को बताइए।  
 (a) टमाटर  
 (b) प्याज  
 (c) भिण्डी  
 (d) मिर्च
100. कोई अधिकारी मीटिंग के दौरान अपनी लेखनी मेज पर पटक कर, प्रगट करता है उसके/उसकी  
 (a) क्रोध को  
 (b) थकावट को  
 (c) अरुचि को  
 (d) उलझन को

DO NOT OPEN THIS TEST BOOKLET UNTIL YOU ARE TOLD TO DO SO.

SERIES

**A**

CODE : PRKJTU-02

2016

Sub : GENERAL STUDIES – II

Time : 2 Hours

Max. Marks : 200

Write your Roll Number  
in the box

In numbers  
In words

--	--	--	--	--	--

UPPCS Prelims Exam 2016

General Studies

Paper - II

To mark Answer use Black Ball-point Pen only.

Candidate must read all the instructions before writing the answers.

You are to mark your answer on Answer-Sheet only. After the examination is over, handover the Answer-Sheet to the Invigilator.

IMPORTANT INSTRUCTIONS

1. Answer all questions. All questions carry equal marks.
2. The Candidate should indicate the correct Roll Number, Subject, Paper Code and its Series on the Answer-Sheet, otherwise the Answer-Sheet will not be evaluated and the candidate will be solely responsible for it.
3. This Booklet contains 100 questions. Each question has four (4) alternative answers. The candidate has to darken only one circle or bubble indicating the correct answer on the Answer-Sheet using Black Ball-point Pen only. If more than one answers are marked, it would be treated as wrong answer and it will not be examined.
4. Do not write anything on the cover page of the Test Booklet except Roll Number. Except this, do not write anything else inside the Test Booklet. If you need a working sheet to do your rough work, please ask the Invigilator for it and mention required information on it.
5. If you happen to find that the Booklet issued to you does not have all the pages properly printed or it has any other deficiency, then you need to approach the Invigilator to get another Booklet of same Series and Code.

DO NOT OPEN THIS TEST BOOKLET UNTIL YOU ARE TOLD TO DO SO.

ध्यान दें : अनुदेशों का हिन्दी रूपान्तर इस पुस्तिका के प्रथम पृष्ठ पर छपा है ।

PRKJTU-02-A